

Karta pracy

Klasa 2 - maj - blok 4 - dzień 3

Wiadomości praktyczne

Zadanie 1

W podanych datach nazwy miesięcy zapisz znakami rzymskimi:



26 maja

1 września

23 czerwca

24 grudnia

8 marca

14 lutego

21 stycznia

--	--	--	--	--	--	--

Zadanie 2

Zapisz ile to jest?

1 c m = m m

1 k g = d a g

1 z ł = g r

1 l = m l

1 g o d z . = m i n .

1 m i n . = s

Zadanie 3

Narysuj prostokąt o wymiarach 4 cm i 8 cm, a obok niego drugi prostokąt 2 razy mniejszy od pierwszego.

Karta pracy

Klasa 2 - maj - blok 4 - dzień 3

Zadanie 4

Jakimi banknotami lub monetami można zapłacić przedstawione kwoty pieniężne?



54 zł =

93 zł =


45 zł =

36 zł =


Zadanie 5

Ania ma 40 zł. Które rzeczy może kupić wydając całą kwotę?

10 zł



15 zł



3 zł




8 zł



5 zł



4 zł



Zapisz propozycje i oblicz wartość.:

.....

.....

.....

.....

